



Centro de Educación "Paula Jaraquemada"
San Ramón

3° Año Básico

Profesor: Lidia Flores Carrasco.

Semana 30 de marzo al 3 de abril 2020

Fecha de entrega: 06 de abril 2020

EL DESARROLLO DE ESTA GUIA SE SUGIERE SE REALICE CON APOYO DE UN ATLAS.

GUÍA DE TRABAJO HISTORIA Y GEOGRAFÍA N°2.

Nombre: _____ Fecha: _____ 2020

Objetivo.

Identificar los conceptos de ubicación de puntos cardinales y líneas de referencia del planeta.


Queridos padres, madres y apoderados: Junto con saludarlos y esperando su apoyo en esta situación sanitaria , entrego como apoyo al desarrollo de esta guía lo siguiente:

Video: <https://www.youtube.com/watch?v=YpGnthPGud0>

https://www.youtube.com/watch?v=CgJbj-RBp_g

Página web: <http://www.educaplus.org/game/puntos-cardinales>

Y cuando termines esta guía debes continuar desarrollando en tu libro de Historia y Geografía Mineduc páginas 41 a la 43 (Si dispones del libro)



Lee atentamente el texto de forma individual y responde a las siguientes actividades

LOS PUNTOS CARDINALES

Son otra buena forma de orientarse, pero en lugares más grandes, en el campo, o en sitios nuevos donde nunca antes has estado.

¿Qué harías si en una salida de la carretera tu papá o tu mamá cogen una vía que no conocen y no saben hacia dónde están yendo?

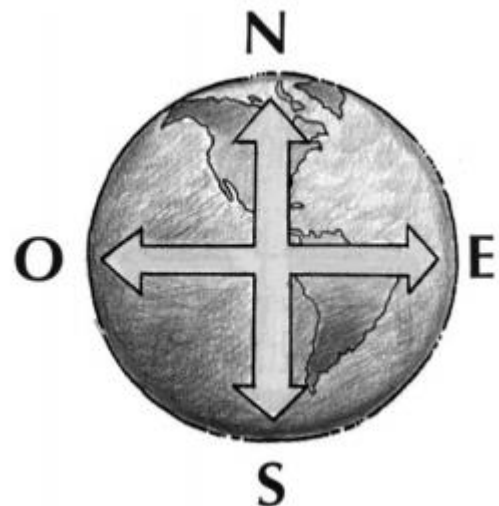
Cuando estamos perdidos en lugares grandes y desconocidos, o cuando viajamos, tenemos que saber ubicarnos usando los **puntos cardinales**.

Los puntos cardinales son cuatro: Norte Sur Este Oeste

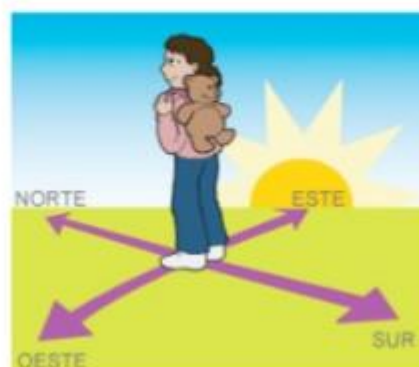
La manera más natural de ubicar los puntos cardinales es observando al sol.

- El lugar por dónde sale el sol es el **Este**.
- El lado contrario, es decir, el lugar por donde se oculta el sol, es el **Oeste**.
- A partir de estos dos puntos puedes ubicar el **Norte** y el **Sur**.

Para poder **UBICARTE** usando los **PUNTOS CARDINALES**.



Si nos ubicamos con el brazo derecho hacia donde sale el Sol, podremos saber que el Norte se ubica al frente nuestro, el Oeste hacia nuestro brazo izquierdo y el Sur a nuestra espalda.



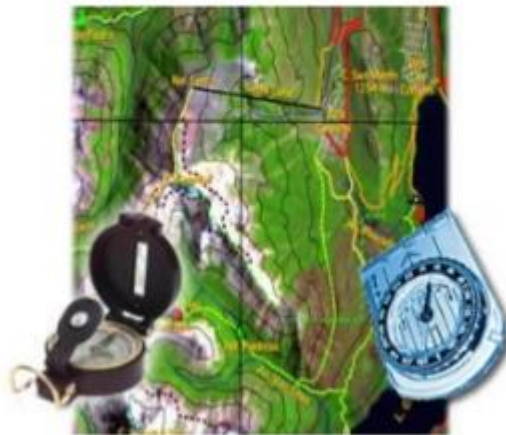
¿Sabías tú que...

A veces las personas utilizan los términos **Oriente** y **Poniente** para referirse a los puntos cardinales Este y Oeste, respectivamente. Esto sucede porque **Oriente** significa lugar por donde sale el Sol, que proviene del vocablo *oriri* que significa *nacer*, es decir, corresponde al **Este**.

Por su parte, **Occidente** significa lugar por donde se pone el Sol, que proviene del vocablo *occidere* que significa *caer*, y corresponde al **Oeste**.

Procedimientos de orientación

Brújula: constituye el procedimiento de orientación más rápido, exacto y seguro. Es aplicable en cualquier circunstancia, tanto de día como de noche. Se basa en la propiedad de las agujas imantadas, que pueden moverse libremente, y señalar el Norte Magnético.



Orientación por el sol: el sol puede servirnos directamente como medio de orientación si recordamos que:

- el sol sale por el Este, aproximadamente a las 6 de la mañana.
- el sol se oculta por el Oeste, aproximadamente a las 6 de la tarde.
- a medio día, (12:00 hrs), el sol está en dirección Norte.




Camila trata de orientarse según la posición del sol. Si son las 6 de la tarde, es decir, es el atardecer, señala los puntos cardinales de:

El pueblo está hacia el **SUR** .

El bosque está hacia el **ESTE** .

La piscina está hacia el **NORTE** .

El horizonte está hacia el **OESTE** .





Hay un turista visitando nuestro país y quiere conocer la mayor cantidad de lugares. Él está alojando en Santiago así es que ayudémosle a orientarse. Completa las oraciones con el punto cardinal correspondiente.

Me gustaría ir a esquiar por tres días a la Cordillera de los Andes, entonces tengo que ir hacia el ESTE.

Después de que vuelva a Santiago tomaré un avión hasta Antofagasta que está en el NORTE de Chile.

Para devolverme a Santiago debo viajar hacia el SUR y una vez que haya llegado a mi hotel, planearé una visita al archipiélago Juan Fernández ya que me han dicho que es muy bonito. No debo olvidar que la isla está al OESTE de Santiago.

¡Pero qué bien lo voy a pasar en Chile!



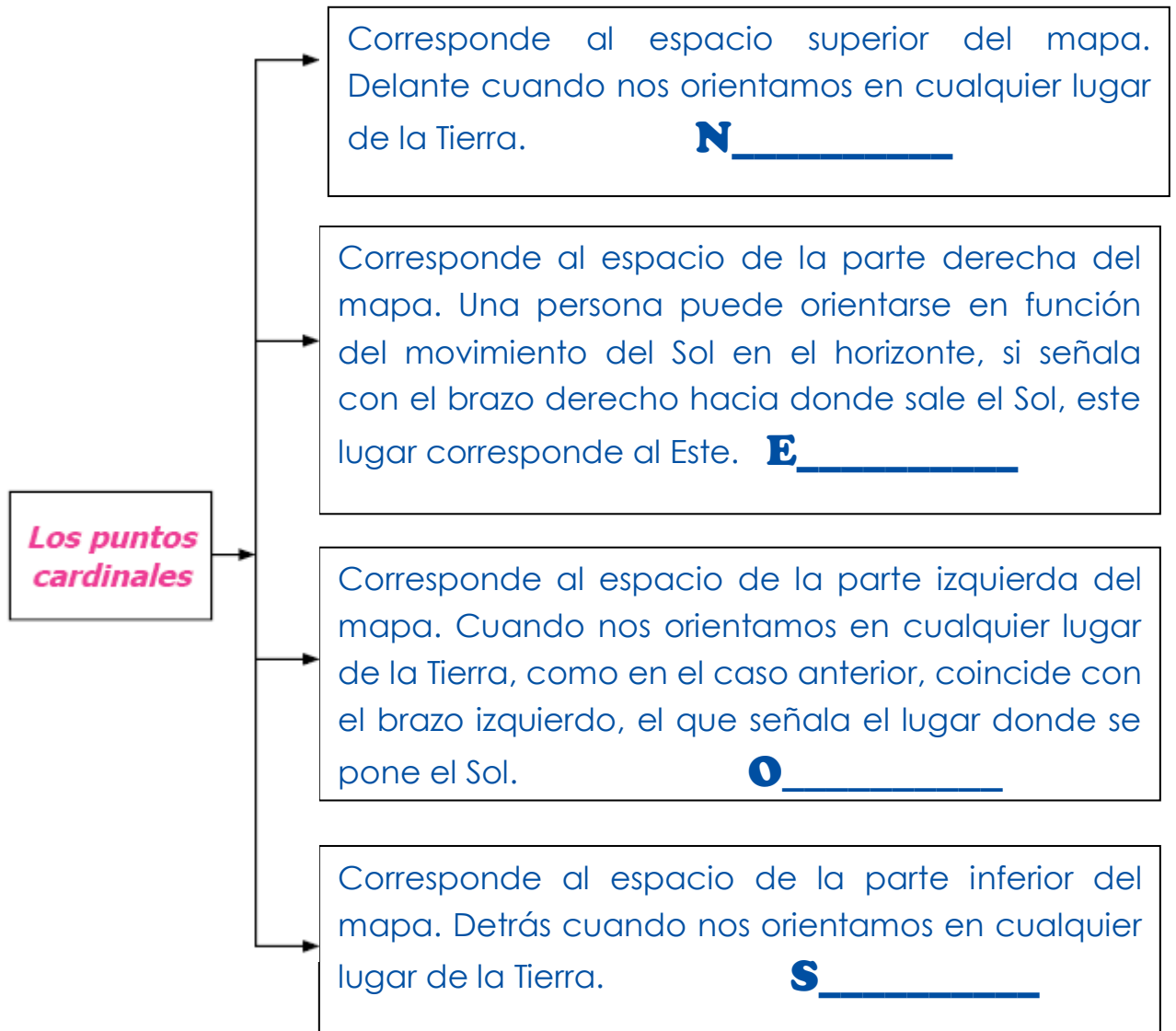
Observa el mapamundi, y responde:




- La Antártica se encuentra al SUR de Chile.
- Al este del continente africano está el océano INDICO.
- Oceanía se ubica al ESTE de África.
- Al este de Asia se encuentra el Océano PACÍFICO.
- El Océano Atlántico se ubica al ESTE de América del Norte.
- Al norte de Europa, se encuentra el Océano ÁRTICO.

Actividades.

1. Completa en el siguiente mapa conceptual el nombre de cada uno de los puntos cardinales.

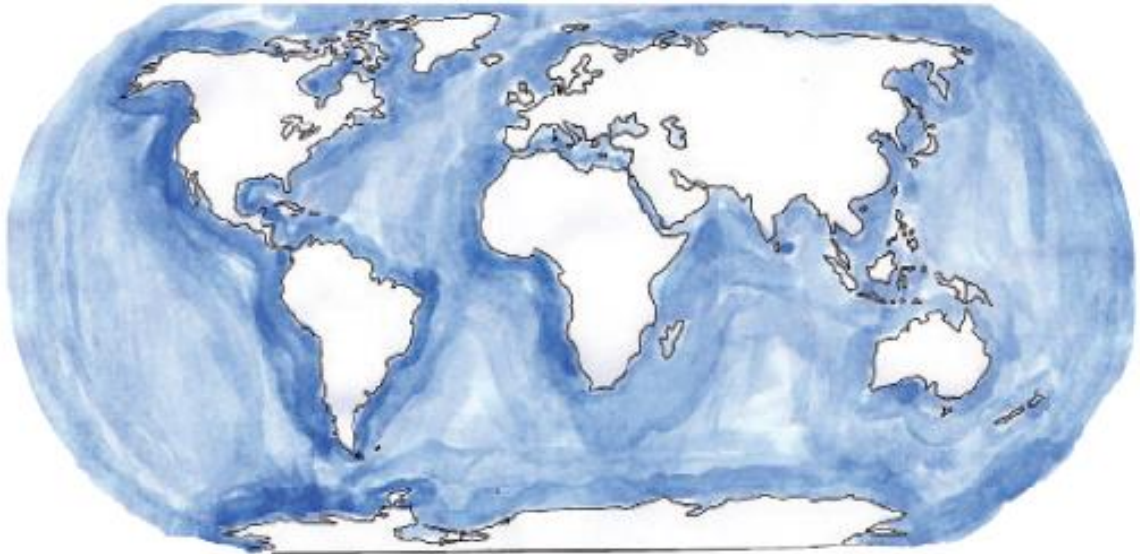


• **Completa** los puntos cardinales:



Los continentes

- Colorea el continente donde se ubica el Chile.



- Los continentes son 6:

1. _____
2. _____
3. _____
4. _____
5. _____
6. _____



- Chile se encuentra ubicado en _____.

LABERINTO CON PUNTOS CARDINALES.

Siga las instrucciones para encontrar las figuras en el mapa.

1. Comienza en el **cuadrado**.



- Desde el cuadrado, avanza 4 lugares al norte.
- Luego, avanza al Este 4 espacios.
- Avanza al Norte nuevamente por 3 espacios.
- Avanza a Oeste 3 espacios.
- Marca una X. ¿Dónde estás tú ahora?

2. Comienza en la **estrella**.



- Desde la estrella, avanza al Oeste 3 espacios.
- Ahora avanza al Sur 2 espacios.
- Avanza al Este 2 espacios.
- Avanza al Norte 5 espacios.
- Marca una X. ¿Dónde estás tú ahora?

3. Comienza en el **círculo**.

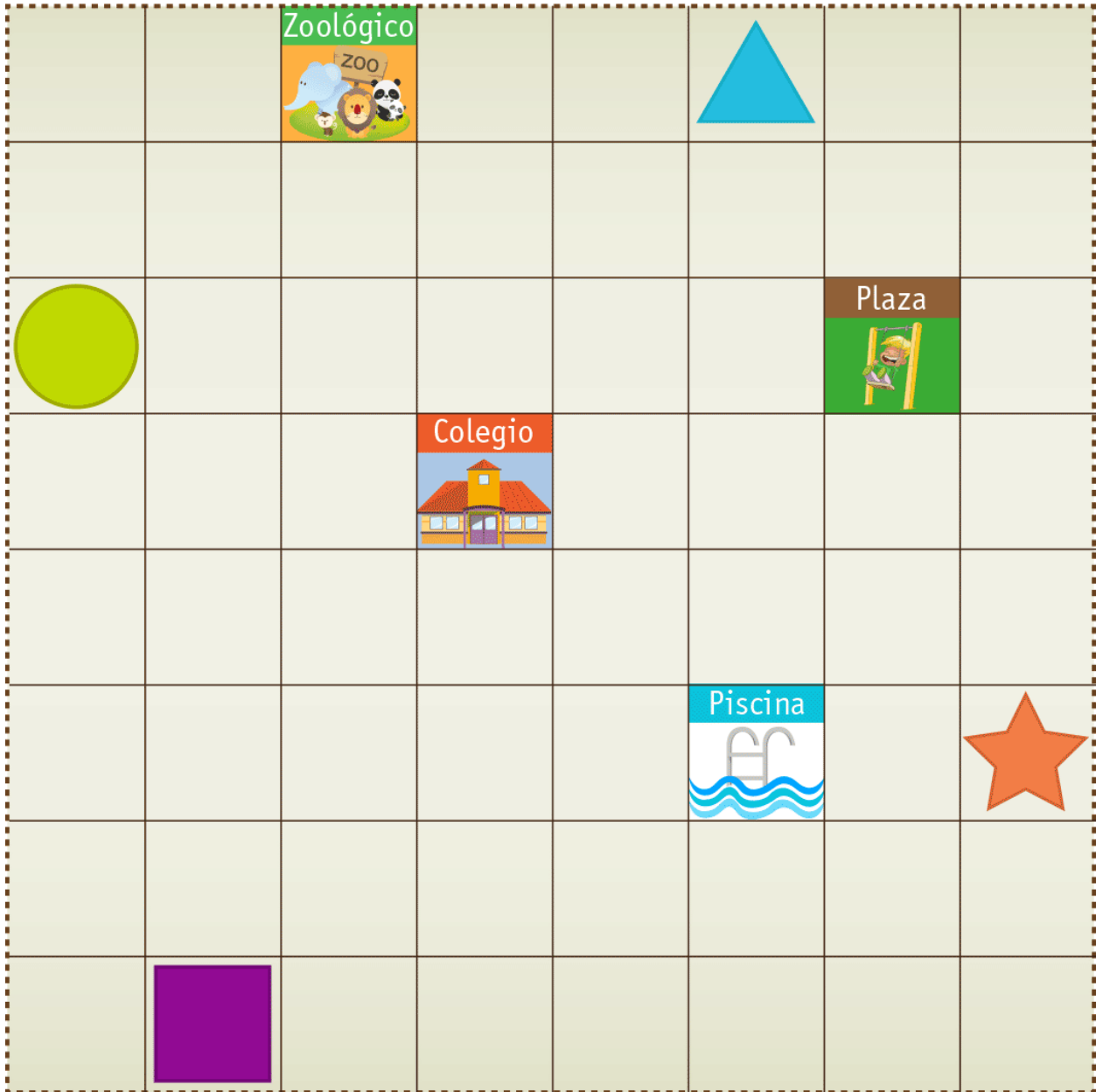
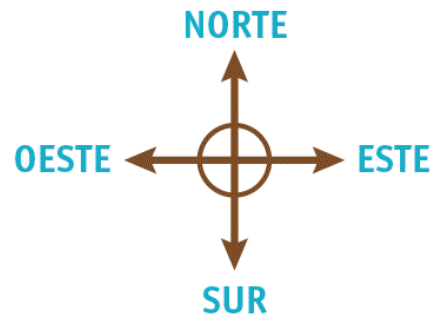


- Desde el círculo, avanza al Sur 5 espacios.
- Ahora avanza al Este 4 espacios.
- Avanza al Norte 2 espacios.
- Avanza al Este por 1 espacio.
- Marca una X. ¿Dónde estás tú ahora?

4. Comienza en el **triángulo**.



- Desde el triángulo avanza 5 espacios hacia el Sur
- Luego mueve 3 espacios hacia el Oeste.
- Ahora avanza 2 espacios al Norte.
- Avanza al Este 1 espacio.
- Marca una X. ¿Dónde estás tú ahora?



Líneas y lugares de referencia del planeta Tierra

Nuestro planeta es muy grande y extenso. Por eso hemos creados diversas **estrategias** para ubicarnos en él. La geografía nos entrega herramientas, como la elaboración de mapas y el uso de los puntos cardinales, para este fin.

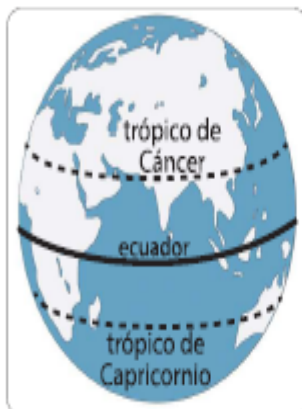
Además de esto, también contamos con otras referencias o líneas imaginarias que sirven para ubicarnos de mejor manera. **Las líneas de referencia son líneas imaginarias que se dibujan en los mapas.** Si vamos al lugar físico, no vamos a encontrar una línea en el suelo. Las usamos para tener referencias de lugares y así poder describir más fácilmente dónde se encuentran los objetos, por ejemplo, islas, países, océanos, barcos, etc.

Estrategia: medidas o acciones que se toman para lograr una meta o un fin.

Los hemisferios: podemos dividir la Tierra en dos mitades: norte y sur. La línea imaginaria que las separa está al centro de la Tierra y se llama **círculo del ecuador**.

Todos los territorios que están al norte de esa línea imaginaria, pertenecen al hemisferio norte.

Todos los territorios que están al sur de esta línea imaginaria, forman parte del hemisferio sur.



Los trópicos: son líneas imaginarias que están dibujadas a la misma distancia, al norte y al sur del círculo del Ecuador.

La línea que está en el hemisferio norte se llama, **trópico de Cáncer**.

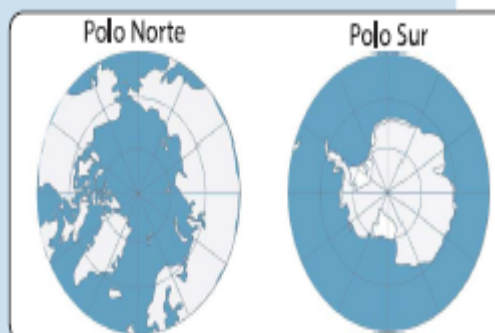
La línea que está en el hemisferio sur se llama **trópico de Capricornio**.

Los polos: son los puntos de la superficie terrestre que están en el extremo norte y en el extremo sur del planeta.

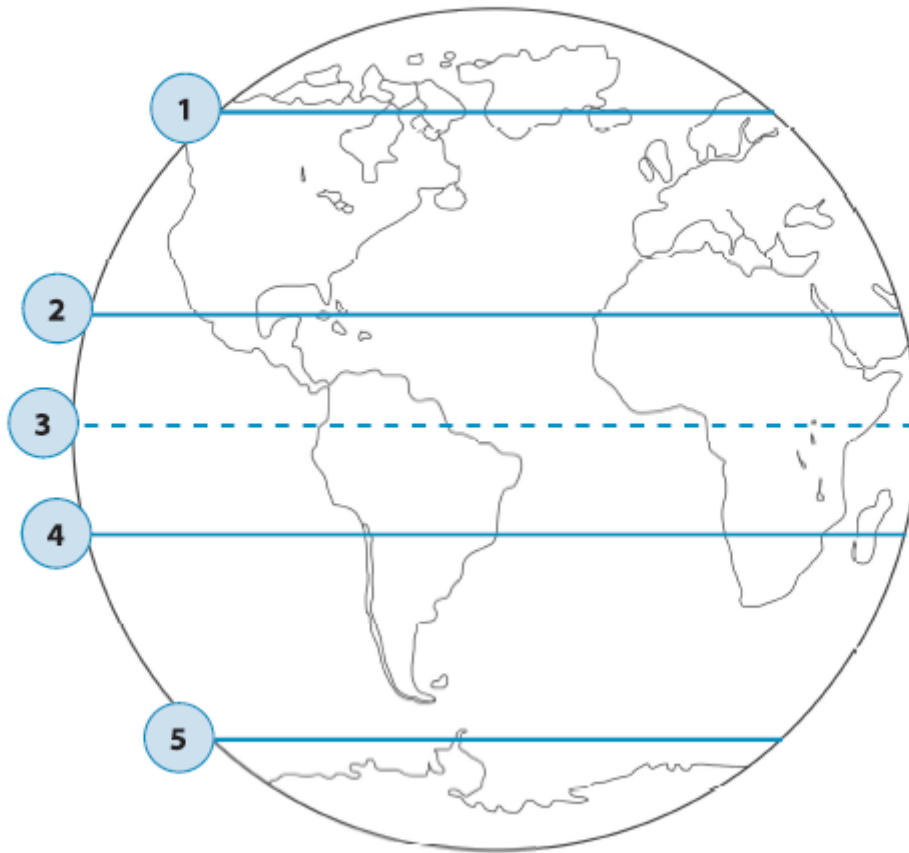
Son zonas muy frías.

En el hemisferio norte está el círculo polar Ártico.

En hemisferio sur el círculo polar Antártico.



Ubica las líneas de referencia del planeta Tierra (círculo polar ártico, círculo polar antártico, línea del ecuador, trópico de Cáncer y trópico de Capricornio).



1. _____
2. _____
3. _____
4. _____
5. _____

Describe la posición de las líneas de referencia en el mapa utilizando puntos cardinales.



Ejemplo:

Línea del ecuador: La línea del ecuador está al sur del trópico de Cáncer y al norte del trópico de Capricornio.

• Círculo polar Ártico: _____

• Trópico de Cáncer: _____

• Trópico de Capricornio: _____

• Círculo polar Antártico: _____

Describe la posición de las líneas de referencia en el mapa utilizando puntos cardinales.



Trópico de Cáncer

Entre el trópico de Cáncer y el trópico de Capricornio.

Círculo del ecuador

Al sur del trópico de Capricornio.

Trópico de Capricornio

Al norte del trópico de Cáncer.

Círculo polar Ártico

Al sur del círculo polar Ártico y al norte del ecuador.

Círculo polar Antártico

Al sur del ecuador y al norte del círculo polar Antártico

Actividad 5: Reflexionemos

¿Por qué, crees tú, que fueron creadas las líneas de referencia del planeta Tierra? Justifica.

Yo creo que las líneas de referencia fueron creadas porque

.....

.....

.....

.....